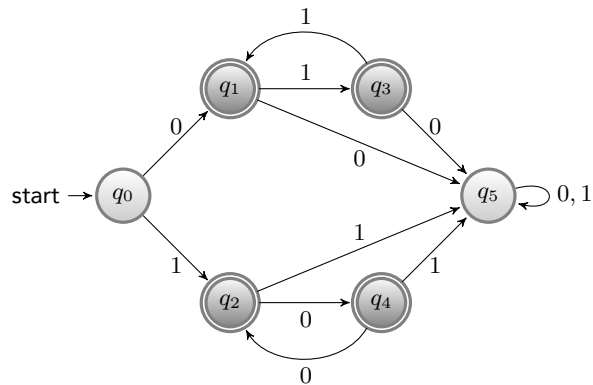


Quiz sugli ASF

Problema 1: Dato il seguente AFD,



Individuare tre stringhe accettate e tre stringhe rifiutate dall'automa. Descrivere il linguaggio accettato dall'automa.

Problema 2: Definire un ASFD che riconosce il linguaggio $L \subseteq \{0,1\}^*$ definito come

$$L = \{w \mid \text{ogni } 0 \text{ in } w \text{ è seguito immediatamente da almeno due } 1\}$$

.

Problema 3: Definire un ASFD che riconosce il linguaggio $L \subseteq \{0,1\}^*$ definito come

$$L = \{w \mid w \neq \varepsilon \text{ e il primo simbolo di } w \text{ e l'ultimo sono uguali}\}$$

.

Problema 4: Definire un ASFD che riconosce il linguaggio $L \subseteq \{0,1\}^*$ definito come

$$L = \{w \mid |w| = 7i, i \geq 0\}$$

.

Problema 5: Definire un ASFD che riconosce il linguaggio $L \subseteq \{0,1\}^*$ definito come

$$L = \{0,1\}^* - \{\varepsilon\}$$

.

Problema 6: Definire un ASFD che riconosce il linguaggio $L \subseteq \{0,1\}^*$ definito come

$$L = \{w \mid w \text{ inizia con } 1 \text{ e termina con } 0\}$$

.

Problema 7: Definire un ASFD che riconosce il linguaggio $L \subseteq \{0,1\}^*$ definito come

$$L = \{w \mid w \text{ contiene un numero pari di } 0, \text{ o contiene esattamente due } 1\}$$

.

Problema 8: Definire un ASFD che riconosce il linguaggio $L \subseteq \{0, 1\}^*$ definito come

$$L = \{w | w \text{ contiene esattamente due } 0\}$$

.

Problema 9: Definire un ASFD che riconosce il linguaggio $L \subseteq \{0, 1\}^*$ definito come

$$L = \{w | w \text{ contiene esattamente due } 0 \text{ e almeno due } 1\}$$

.

Problema 10: Definire un ASFD che riconosce il linguaggio $L \subseteq \{0, 1\}^*$ definito come

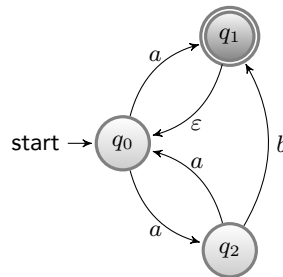
$$L = \{w | |w| \bmod 5 = 1\}$$

.

Problema 11: Utilizzare gli ASF per dimostrare che:

1. $L = \{a^n | n \geq 4\}$ è regolare
2. Se L è regolare allora $L \cup \{\varepsilon\}$ è regolare
3. Se L è regolare allora \bar{L} è regolare

Problema 12: Dato il seguente AFND,



Quali tra le stringhe $aa, ba, aba, abb, abab$ sono accettate dall'automa?

Problema 13: Definire un ASFND avente 3 stati e che riconosce il linguaggio $L \subseteq \{0, 1\}^*$ definito come

$$L = 0^*1^*0^+$$

L è quindi l'insieme delle stringhe composte da una sequenza (eventualmente nulla) di 0 seguita da una sequenza (eventualmente nulla) di 1 seguita da una sequenza di almeno uno 0.

Problema 14: Definire un ASFND che riconosce il linguaggio $L \subseteq \{a, b\}^*$ definito come

$$L_1 = \{a^n b a^m | n, m \geq 0\}$$

.

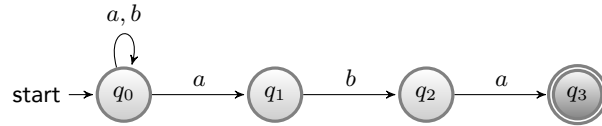
Problema 15: Definire un ASFND che riconosce il linguaggio $L \subseteq \{a, b\}^*$ definito come

$$L_1 = \{a^n b a^m | n, m \geq 0\}$$

.

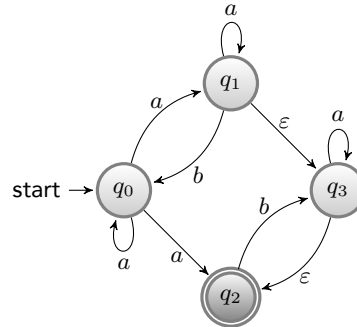
Problema 16: Trasformare l'ASFND del problema precedente in un ASFD equivalente.

Problema 17: Dato il seguente AFND,



derivare un ASFD equivalente.

Problema 18: Dato il seguente AFND con ε -transizioni,



derivare un ASFND privo di ε -transizioni equivalente.

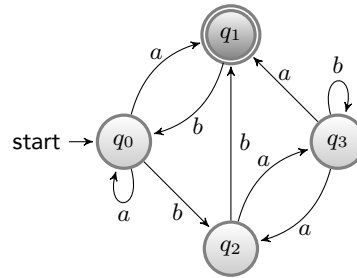
Problema 19: Dato il linguaggio L_1 del problema precedente, definire un ASFND che riconosce il linguaggio $\overline{L_1} \cup L_1^R$.

Problema 20: Definire un ASFND avente 3 stati e che riconosce il linguaggio $L \subseteq \{0, 1\}^*$ definito come

$$L = 0^*1^*0^+$$

Problema 21: Per ogni automa definito ai punti precedenti, dimostrare che accetta esattamente il corrispondente linguaggio. A tal fine, dimostrare che l'automata (1) accetta tutte le stringhe del linguaggio e (2) non accetta nessuna stringa che non appartiene al linguaggio.

Problema 22: Dato il seguente grafo di transizione,



1. Il grafo rappresenta un ASFND $\mathcal{A}_N = (Q, \Sigma, \delta, q_0, F)$. Descrivere ognuna di tali componenti per l'automata in questione.
2. Costruire un ASFD $\mathcal{A}_D = (Q', \Sigma, \delta', q'_0, F')$ equivalente a \mathcal{A}_N : definire gli elementi Q', δ', q'_0, F' e descrivere poi l'automata mediante il relativo grafo di transizione.

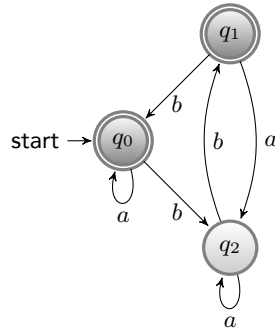
Problema 23: Definire gli ASFND che accettano i linguaggi descritti dalle seguenti espressioni regolari.

1. $(0 + 1)^*000(0 + 1)^*$
2. $((((00)^*(11)) + 01)^*$
3. ε^*

Problema 24: Definire gli ASFND che accettano i linguaggi descritti dalle seguenti espressioni regolari.

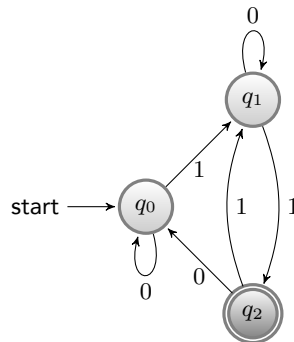
1. $\varepsilon + a(a + b)^*$
2. $(ab^*)^* + (ba^*)^*$

Problema 25: Dato il seguente ASFND,



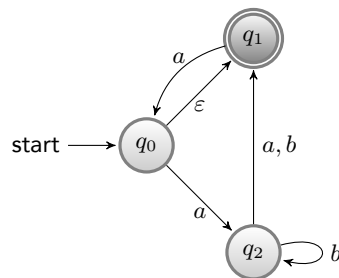
derivare una espressione regolare che descriva il linguaggio riconosciuto dall'automa.

Problema 26: Dato il seguente ASFND,



derivare una espressione regolare che descriva il linguaggio riconosciuto dall'automa.

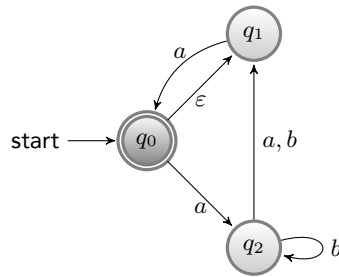
Problema 27: Dato il seguente ASFND,



derivare una espressione regolare che descriva il linguaggio riconosciuto dall'automa.

Problema 28:

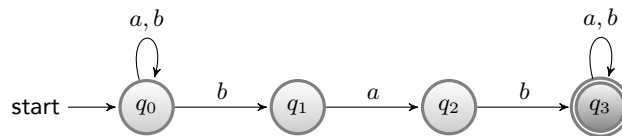
Dato il seguente ASFND,



derivare una espressione regolare che descriva il linguaggio riconosciuto dall'automa.

Problema 29:

Dato il seguente ASFND,



derivare un ASFD che riconosca lo stesso linguaggio.

Problema 30: In un ASFD $\mathcal{A} = (Q, \Sigma, \delta, q_0, F)$, un cammino di lunghezza $n \geq 1$ è una sequenza di stati q_1, \dots, q_n tale che per ogni $1 \leq i \leq n - 1$ abbiamo $\delta(q_i, a) = q_{i+1}$ per qualche $a \in \Sigma$. Si noti che ogni singolo stato può essere visto come un cammino di lunghezza 1. Un ciclo di lunghezza $n \geq 1$ è un cammino con il vincolo aggiuntivo che $\delta(q_n, a) = q_1$ per qualche $a \in \Sigma$: si noti che uno stato q tale che $\delta(q, a) = q$ per qualche $a \in \Sigma$ definisce un ciclo. Si dimostri il seguente enunciato:

Sia $\mathcal{A} = (Q, \Sigma, \delta, q_0, F)$ un ASFD che riconosce un linguaggio L infinito. Esiste allora (almeno) uno stato $q' \in Q$ per cui valgono le seguenti proprietà:

- Esiste un cammino da q_0 a q'
- Esiste un ciclo che include q'
- Esiste un cammino da q' a qualche stato in F .

Problema 31: In un ASFD $\mathcal{A} = (Q, \Sigma, \delta, q_0, F)$, un cammino di lunghezza $n \geq 1$ è una sequenza di stati q_1, \dots, q_n tale che per ogni $1 \leq i \leq n - 1$ abbiamo $\delta(q_i, a) = q_{i+1}$ per qualche $a \in \Sigma$. Si noti che ogni singolo stato può essere visto come un cammino di lunghezza 1. Un ciclo di lunghezza $n \geq 1$ è un cammino con il vincolo aggiuntivo che $\delta(q_n, a) = q_1$ per qualche $a \in \Sigma$: si noti che uno stato q tale che $\delta(q, a) = q$ per qualche $a \in \Sigma$ definisce un ciclo. Si dimostri il seguente enunciato:

Sia $\mathcal{A} = (Q, \Sigma, \delta, q_0, F)$ un ASFD che riconosce un linguaggio L infinito. Esiste allora (almeno) uno stato $q' \in Q$ per cui valgono le seguenti proprietà:

- Esiste un cammino da q_0 a q'
- Esiste un ciclo che include q'
- Esiste un cammino da q' a qualche stato in F .

Problema 32: Per ogni stringa $w \in \{0, 1\}^*$ sia $\text{double}(w)$ la stringa ottenuta sostituendo in w ogni occorrenza di 0 con 00 ed ogni occorrenza di 1 con 11. Per ogni linguaggio $L \subseteq \{0, 1\}^*$ sia $\text{double}(L) = \{\text{double}(w) \mid w \in L\}$. Si definisca un procedimento che, dato un linguaggio L riconosciuto da un ASFD \mathcal{A} , derivi da esso l'automa \mathcal{A}' che riconosce $\text{double}(L)$.

Problema 33: Sia dato l'ASFND con ε -transizioni $\mathcal{A} = (Q, \Sigma, \delta_N, q_0, \{q_F\})$ tale che non esistono né transizioni in q_0 né transizioni da q_F . Detto L il linguaggio accettato da \mathcal{A} , specificare quali linguaggi vengono accettati dai seguenti automi:

1. L'automa \mathcal{A}_1 ottenuto da \mathcal{A} aggiungendo una ε -transizione da q_F a q_0 .
2. L'automa \mathcal{A}_2 ottenuto da \mathcal{A} aggiungendo una ε -transizione da q_0 a ogni stato raggiungibile da q_0 .

3. L'automa \mathcal{A}_3 ottenuto da \mathcal{A} aggiungendo una ε -transizione da ogni stato a partire da cui q_F è raggiungibile a q_F stesso.
4. L'automa \mathcal{A}_4 ottenuto applicando contemporaneamente le modifiche ai due punti precedenti.

Problema 34: Una stringa u è un prefisso di una stringa w se esiste v tale che $w = uv$. Dato un ASFND \mathcal{A} che accetta un linguaggio $L = L(\mathcal{A})$ derivare un ASFND \mathcal{A}_p che accetta il linguaggio $L_p = \{w \mid \exists x \in L, w \text{ è un prefisso di } x\}$.

Problema 35: Una stringa u è un suffisso di una stringa w se esiste v tale che $w = vu$. Dato un ASFND \mathcal{A} che accetta un linguaggio $L = L(\mathcal{A})$ derivare un ASFND \mathcal{A}_s che accetta il linguaggio $L_s = \{w \mid \exists x \in L, w \text{ è un suffisso di } x\}$.

Problema 36: Sia \mathcal{A} un ASFD con $\Sigma = \{a, b\}$, $Q = \{q_1, \dots, q_8\}$, $q_0 = q_1$, $F = \{q_3, q_4\}$ e δ definita nel modo seguente:

	q_1	q_2	q_3	q_4	q_5	q_6	q_7	q_8
a	q_1	q_3	q_4	q_3	q_4	q_6	q_2	q_3
b	q_4	q_1	q_2	q_5	q_6	q_3	q_4	q_1

Determinare un automa minimo equivalente a \mathcal{A} .

Problema 37:(Prova d'esame del 30-1-2006). Definire un ASFD che riconosca il linguaggio $L \subset \{a, b\}^*$ comprendente tutte le stringhe che non contengono la stringa aba al loro interno.

Problema 38:(Prova d'esame del 24-2-2006). Definire un algoritmo che, dato un ASFD \mathcal{A} , determina in tempo finito se $L(\mathcal{A})$ contiene almeno 100 stringhe.

Problema 39:(Prova d'esame del 24-2-2006). Sia dato l'ASFND \mathcal{A} con $\Sigma = \{0, 1\}$, $Q = \{q_0, q_1\}$, $F = \{q_1\}$ e δ definita dalla tabella seguente:

	q_0	q_1
0	q_0	$\{q_0, q_1\}$
1	q_1	q_0

Si forniscano una grammatica regolare \mathcal{G} e una espressione regolare \mathcal{R} che definiscano entrambe il linguaggio $L(\mathcal{A})$ accettato da \mathcal{A} .

Problema 40:(Prova d'esame del 4-7-2006). Costruire un ASFND che accetti il linguaggio definito dall'espressione regolare $a(aa + ab)^*ab$.

Problema 41:(Prova d'esame del 4-7-2006). Sia dato l'ASFD \mathcal{A} con $\Sigma = \{a, b\}$, $Q = \{q_0, q_1, q_2, q_3, q_4, q_5\}$, $F = \{q_4, q_5\}$ e δ definita dalla tabella seguente:

	q_0	q_1	q_2	q_3	q_4	q_5
a	q_1	q_4	q_5	q_4	q_0	q_5
b	q_2	q_3	q_3	q_4	q_1	q_5

Derivare l'automa minimo equivalente ad \mathcal{A} .

Problema 42:(Prova d'esame del 13-9-2006). Sia dato l'ASFND \mathcal{A} con $\Sigma = \{0, 1\}$, $Q = \{q_0, q_1, q_2, q_3\}$, $F = \{q_3\}$ e δ definita dalla tabella seguente:

	q_0	q_1	q_2	q_3
0		q_1	q_3	
1		$\{q_1, q_2\}$	q_3	
ε	$\{q_1, q_3\}$			

Derivare un ASFD, contenente soltanto stati raggiungibili, equivalente ad \mathcal{A} .

Problema 43:(Prova d'esame del 18-6-2007). Sia dato l'ASFND \mathcal{A} con $\Sigma = \{a, b\}$, $Q = \{q_0, q_1, q_2, q_3\}$, $F = \{q_3\}$ e δ definita dalla tabella seguente:

	q_0	q_1	q_2	q_3
a	$\{q_0, q_1\}$		q_3	
b	q_0	q_2		

Derivare un ASFD, contenente soltanto stati raggiungibili, equivalente ad \mathcal{A} .

Problema 44:(Prova d'esame del 11-7-2007). Definire un ASFD che accetti il linguaggio $L \subset \{a, b\}^*$ tale che, per ogni $\sigma \in \{a, b\}^*$, $\sigma \in L$ se e solo se in σ compaiono non più di tre caratteri a .

Problema 45:(Prova d'esame del 12-9-2007). Si supponga di avere due linguaggi L_1, L_2 riconosciuti dai due automi a stati finiti deterministici $\mathcal{A}_1, \mathcal{A}_2$. Si descriva l'automa a stati finiti \mathcal{A} che riconosce la differenza simmetrica di L_1 e L_2 .

Problema 46:(Prova d'esame del 24-1-2008). Sia dato l'ASFND \mathcal{A} con $\Sigma = \{0, 1\}$, $Q = \{q_0, q_1, q_2, q_3\}$, $F = \{q_3\}$ e δ definita dalla tabella seguente:

	q_0	q_1	q_2	q_3
0	$\{q_1\}$	\emptyset	$\{q_2\}$	\emptyset
1	\emptyset	$\{q_3\}$	$\{q_2, q_3\}$	\emptyset
ε	q_2	\emptyset	\emptyset	\emptyset

Derivare un automa a stati finiti deterministico equivalente ad \mathcal{A}

Problema 47:(Prova d'esonero del 25-2-2015). Data l'espressione regolare $a^*b^* + b^*a^*$, costruire un automa a stati finiti deterministico che riconosca il linguaggio descritto da essa.

Problema 48:(Prova d'esonero del 9-2-2016). Si definisca un automa a stati finiti che riconosca l'insieme delle stringhe corrispondenti a numeri reali in notazione esponenziale e base 2, del tipo cioè xyy dove x è un numero (eventualmente) con punto e parte decimale ed eventualmente con segno e y è un numero con eventuale segno, diverso da 0 e 1.

Si assume che un numero debba iniziare con una cifra diversa da 0 e che una parte decimale non termini per 0. Esempi: 1, -10, +1.011, 110e10, 101e - 10, 10.01e1001, +1.0001e100.

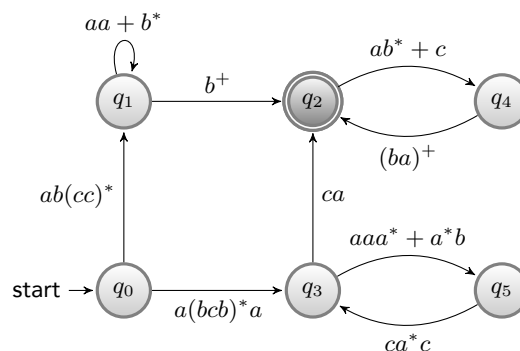
Problema 49:(Prova d'esonero del 4-3-2016). Sia dato il linguaggio

$$L = \{w \in \{a, b, c\}^+ \mid \text{l'ultimo carattere in } w \text{ non è comparso prima}\}$$

Si definisca un automa a stati finiti che accetti L .

Problema 50:(Prova d'esame del 18-7-2016). Costruire un ASFD che riconosca il linguaggio descritto dall'espressione regolare $a((ab + aba)^*a)^*$

Problema 51:(Prova d'esame del 17-2-2016). Si consideri una estensione dei DFA in cui le transizioni sono associate ad espressioni regolari arbitrarie su Σ . Ad esempio:



Mostrare che l'insieme dei linguaggi riconoscibili dal modello esteso corrisponde ai linguaggi di tipo 3, mostrando l'equivalenza tra il modello esteso e i DFA.